


Задания к олимпиаде _____ класс

1. Белый ферзь первым ходом переместился на одно поле, вторым - на два, третьим – на три. Продолжая увеличивать количество полей на каждом шаге и не возвращаясь по пройденному пути, седьмым ходом он зашел в дом. Нарисуй его маршрут стрелочками.



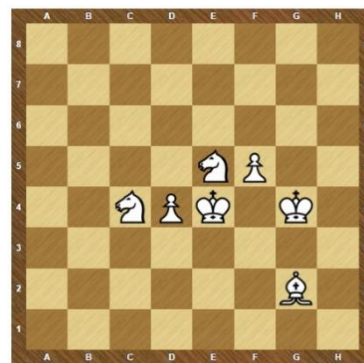
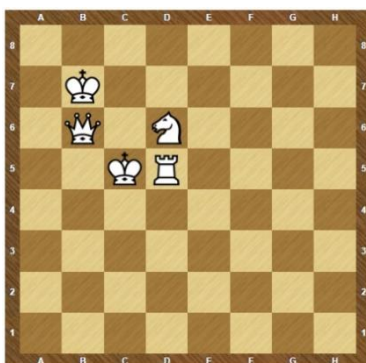

2. Пройди конем в дом, останавливаясь на полях с буквами так, чтобы получились два слова. Запиши полученные слова.



--	--	--	--	--

--	--	--	--	--	--

3. Раскрась фигуры на картинке так, чтобы был мат белому королю.






4. Черный король получил мат. Восстанови позицию, если известно, что... (зарисуй одно решение).


1) У белых есть король и слон. У черных король и конь. Белый король стоит на 6 горизонтали.

2) У белых король и слон, которые стоят на одной горизонтали. Белый слон чернопольный. У черных король и слон, которые тоже стоят на одной горизонтали.

3) У белых король и ладья, у черных король и ладья. Все фигуры стоят в форме хода коня.



5. Белые объявили шах. Сколько разных способов защиты от шаха могут применить черные? Ответ запиши цифрой в квадрате сбоку от диаграммы.



6. Играли два шахматиста, во время партии возникла позиция. Найди ошибки (то, чего не может быть) - отметь кружочками. Кратко поясни, почему такое не может быть.



